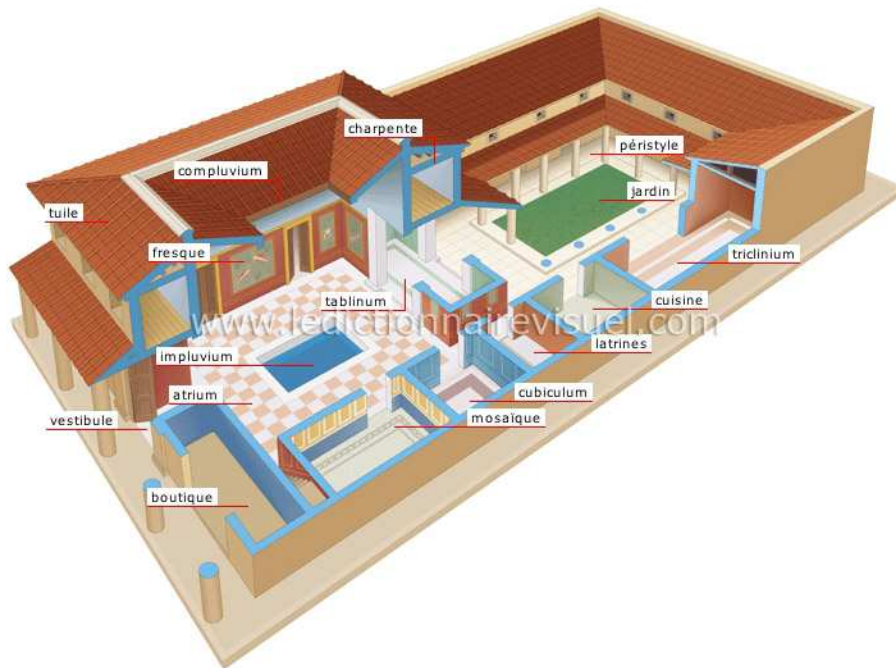
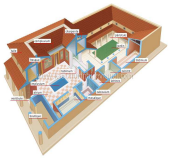


Comment était constituée la maison romaine ?





EPI 5 EME ACTIVITE 1

Comment était constituée
la maison romaine ?

Quelles sont les
particularités
de l'habitat ?

Séquence 1

Fiche élève
Page 1/2

Activités à réaliser en îlot:

Temps alloué : 55 minutes

Problème à résoudre : Dans le cadre de l'EPI, vous allez découvrir les particularités de l'habitat romain.

Ouvrir la vidéo :

Visite 3D d'une DOMUS Romaine.mp4 ou la vidéo internet : <https://www.youtube.com/watch?v=1JycjR8vM8Q>

Question 1 : comment s'appelle la maison romaine ?

Question 2 : comment s'appelle le couloir d'entrée de la maison ?

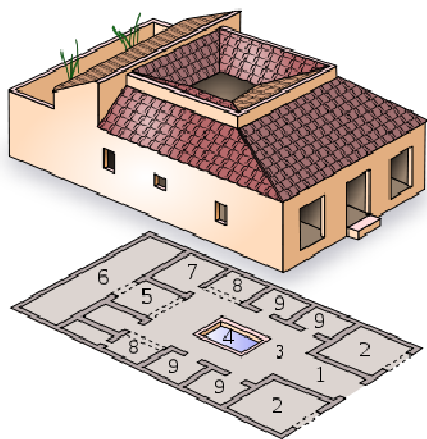
Question 3 : comment s'appelle la partie permettant d'accéder aux différentes parties de la maison ?

Question 4 : comment s'appellent les chambres de la Domus ?

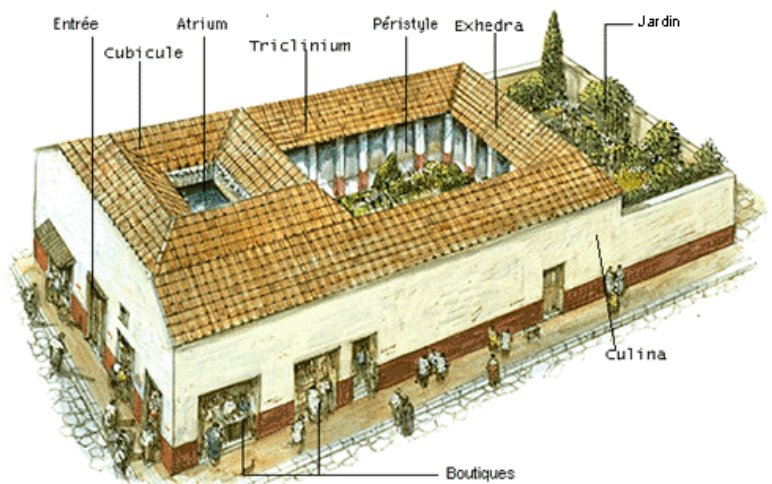
Question 5 : comment s'appelle la cuisine de la domus ?

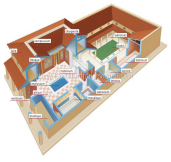
Question 6 : comment s'appelle le jardin ?

Question 7 : comment s'appelle le salon de la Domus ?



- | | | |
|------------|--------------|---------------|
| 1. fauces | 4. impluvium | 7. triclinium |
| 2. tabernæ | 5. tablinum | 8. alæ |
| 3. atrium | 6. hortus | 9. cubiculum |





EPI 5 EME ACTIVITE 1

Comment était constituée
la maison romaine ?

Quelles sont les particularités de l'habitat ?

Séquence 1

Fiche élève
Page 1/2

Activités à réaliser en îlot:

Temps alloué : 55 minutes

Problème à résoudre : Dans le cadre de l'EPI, vous allez découvrir les particularités de l'habitat romain.

Ouvrir la vidéo :

Visite 3D d'une DOMUS Romaine.mp4 ou la vidéo internet : <https://www.youtube.com/watch?v=1JycjR8vM8Q>

Question 1 : comment s'appelle la maison romaine ?

Domus




Question 2 : comment s'appelle le couloir d'entrée de la maison ?

Vestibulum



Question 3 : comment s'appelle la partie permettant d'accéder aux différentes parties de la maison ?

Atrium



Question 4 : comment s'appellent les chambres de la Domus ?

Cubiculum



Question 5 : comment s'appelle la cuisine de la domus ?

Culina



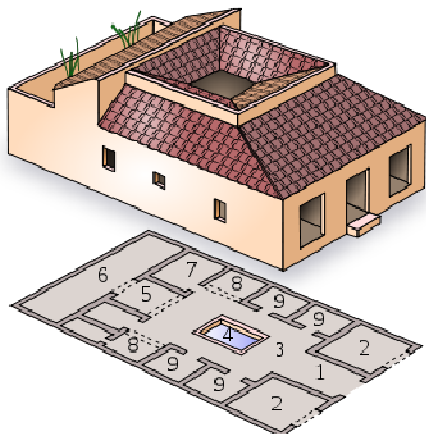

Question 6 : comment s'appelle le jardin ?

Viridarium

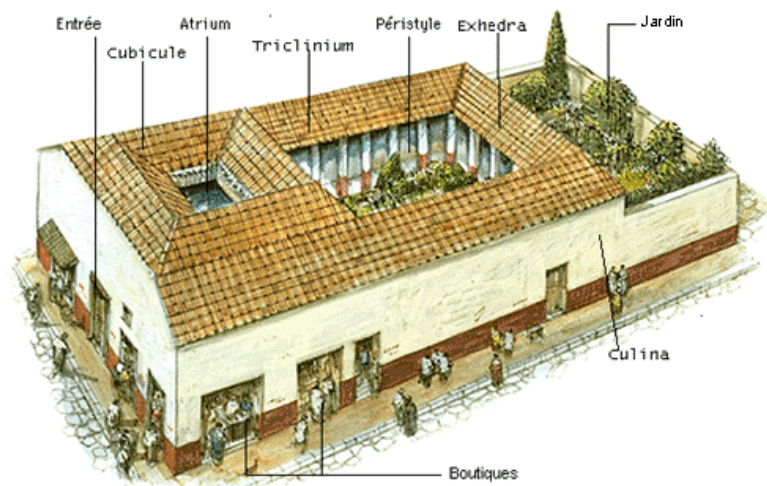


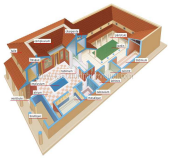
Question 8 : comment s'appelle le salon de la Domus ?

Oecus



- | | | |
|------------|--------------|---------------|
| 1. fauces | 4. impluvium | 7. triclinium |
| 2. tabernæ | 5. tablinum | 8. alæ |
| 3. atrium | 6. hortus | 9. cubiculum |





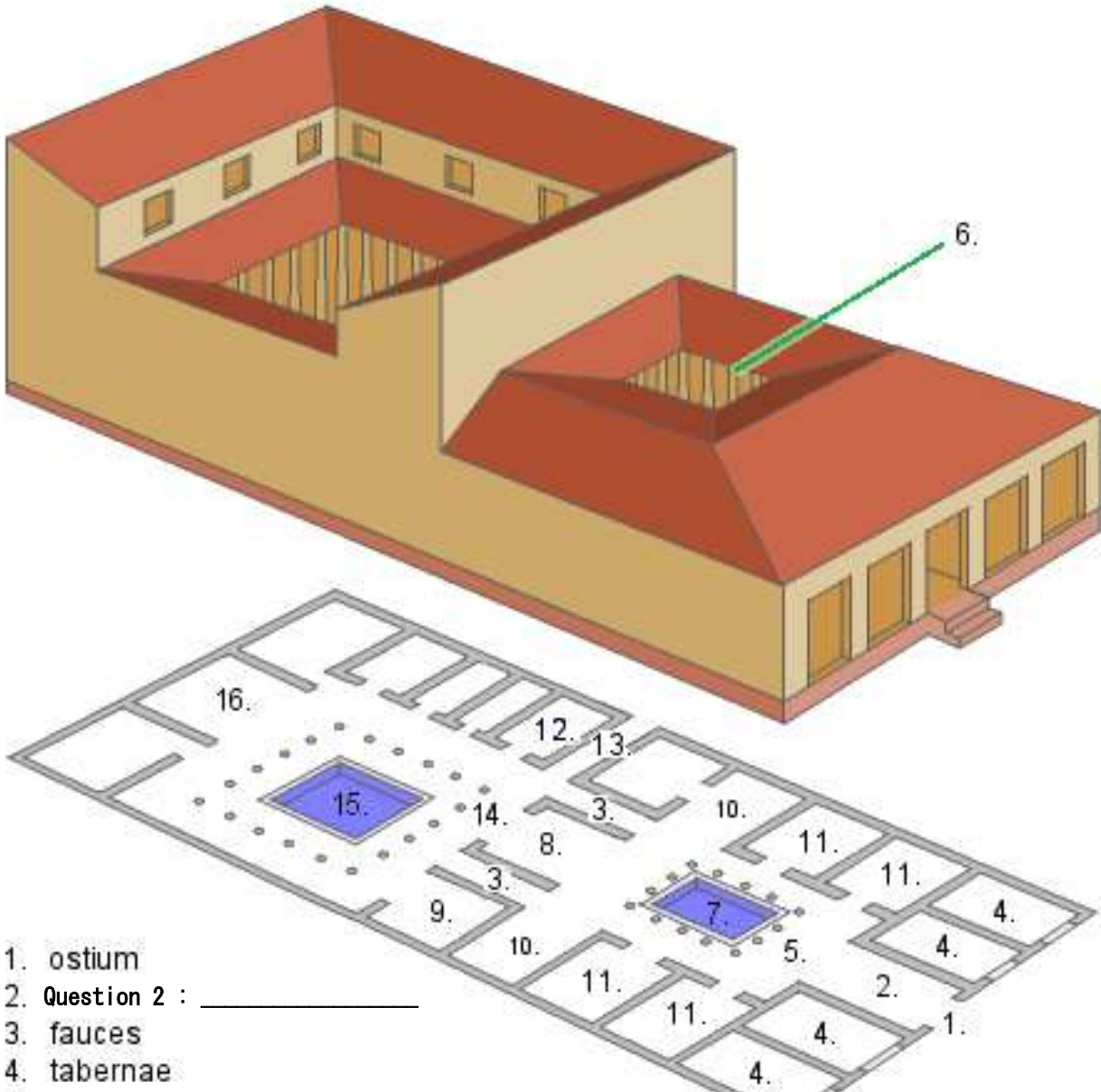
**EPI 5 EME
ACTIVITE 1**

Comment était constituée
la maison romaine ?

**Quelles sont les
particularités
de l'habitat ?**

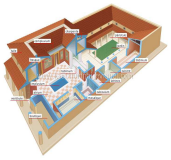
Séquence 1

*Fiche élève
Page 2/2*



- 1. ostium
- 2. Question 2 : _____
- 3. fauces
- 4. tabernae
- 5. Question 3 : _____
- 6. compluvium
- 7. impluvium
- 8. tablinum
- 9. triclinium
- 10. alae
- 11. Question 4 : _____
- 12. Question 5 : _____
- 13. posticum
- 14. Question 6 : _____
- 15. piscina
- 16. exedra

Question 1 : comment s' appelle la maison romaine ? _____



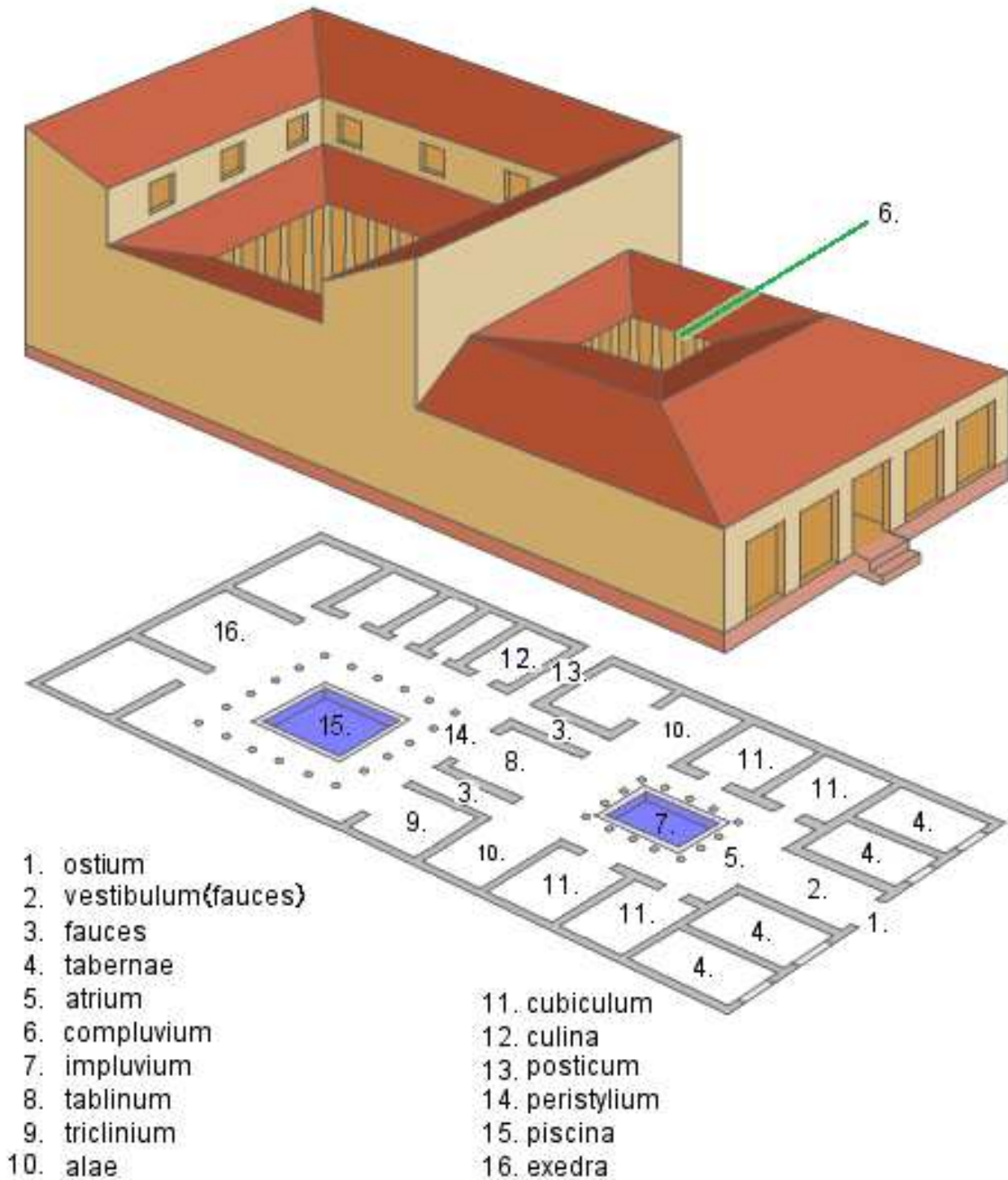
**EPI 5 EME
ACTIVITE 1**

Comment était constituée
la maison romaine ?

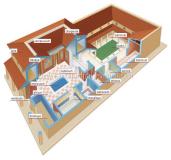
**Quelles sont les
particularités
de l'habitat ?**

Séquence 1

*Fiche élève
Page 2/2*



Question 1 : comment s' appelle la maison romaine ? DOMUS



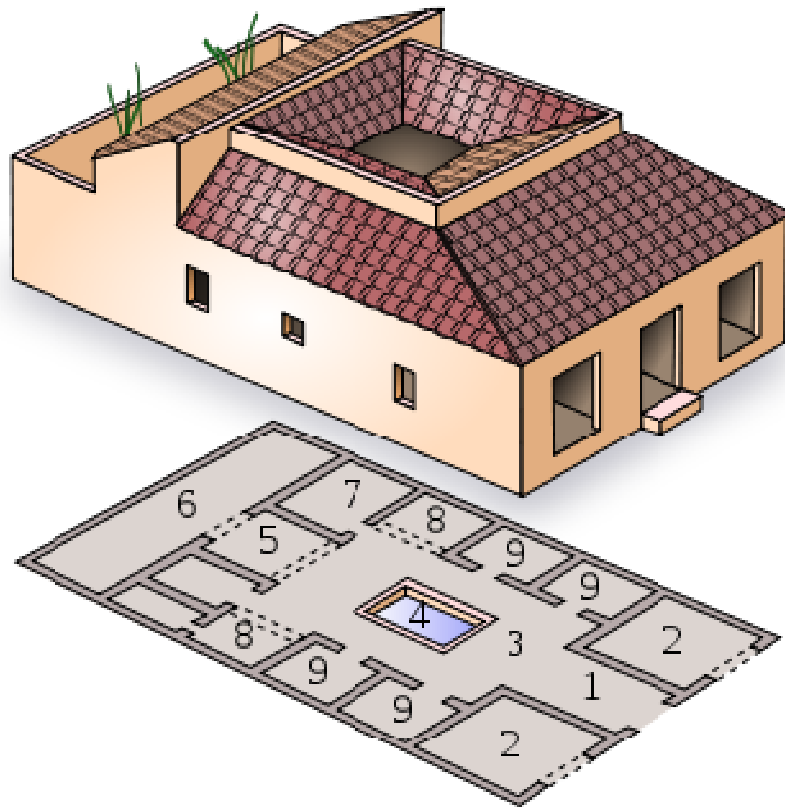
EPI 5 EME ACTIVITE 1

Comment était constituée
la maison romaine ?

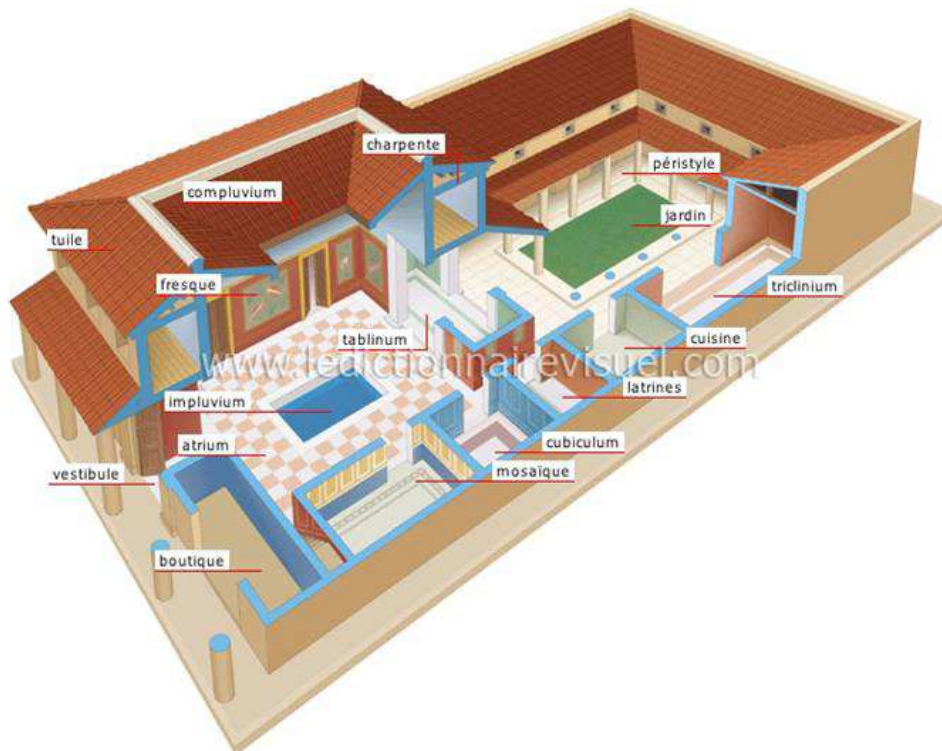
Quelles sont les
particularités
de l'habitat ?

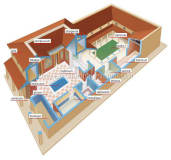
Séquence 1

Ressource



- | | | |
|-------------------|---------------------|----------------------|
| 1. <i>fauces</i> | 4. <i>impluvium</i> | 7. <i>triclinium</i> |
| 2. <i>tabernæ</i> | 5. <i>tablinum</i> | 8. <i>alæ</i> |
| 3. <i>atrium</i> | 6. <i>hortus</i> | 9. <i>cubiculum</i> |





EPI 5 EME ACTIVITE 1

Comment était constituée
la maison romaine ?

Quelles sont les
particularités
de l'habitat ?

Séquence 1

Ressource

À l'intérieur d'une maison romaine

À Rome, la plupart des habitants vivent dans des immeubles, les *insulae*. Seuls les riches Romains peuvent s'offrir une maison particulière, appelée *domus* en latin. Une *domus* est une vaste demeure avec des sols en mosaïque, des meubles (divans, tables basses, tabourets, bancs), des tapis et des fresques.

Le tablinum

Il s'agit de la pièce principale de la maison. Il sert à la fois de bureau et de lieu pour recevoir. Le *tablinum* est habituellement situé entre l'*atrium* et le péristyle.

Le péristyle

C'est une cour ouverte, décorée de corbeilles de fleurs, de fontaines et de statues. Les Romains viennent s'y promener ou y dîner les soirs d'été, allongés sur des divans.

L'atrium ou patio

L'*atrium* est une cour centrale. Il est éclairé par un trou fait dans le toit. L'*atrium* comporte aussi un bassin qui récupère les eaux de pluie.

Les échoppes

Les propriétaires des maisons louent aux artisans, les pièces qui donnent sur la rue. Ces artisans vivent dans de petites chambres situées au-dessus de leur boutique.

Les chambres

Elles sont petites et simplement meublées.

Le triclinium

C'est la salle à manger dans laquelle les Romains prennent, le soir, des repas longs et savoureux. Le *triclinium* est la plus belle pièce.

La mosaïque

C'est un tableau composé de milliers de petits cubes colorés. Bien disposés, ils forment un dessin. Les Romains en décorent les murs et le sol. Ils aiment beaucoup les scènes de chasse ou de jeux.

Les toits

Ils sont recouverts avec des tuiles d'argile.

Les murs

On construit les maisons avec des pierres, des briques, du ciment et des poutres en bois.

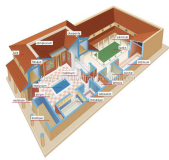
Les fenêtres

Elles sont très petites pour empêcher les voleurs de pénétrer dans la maison et pour y maintenir la fraîcheur.

La maison romaine vue de l'extérieur



À RETENIR



**EPI 5 EME
ACTIVITE 1**

Comment était constituée
la maison romaine ?

Quelles sont les
particularités
de l'habitat ?

Séquence 1

Ressource

